

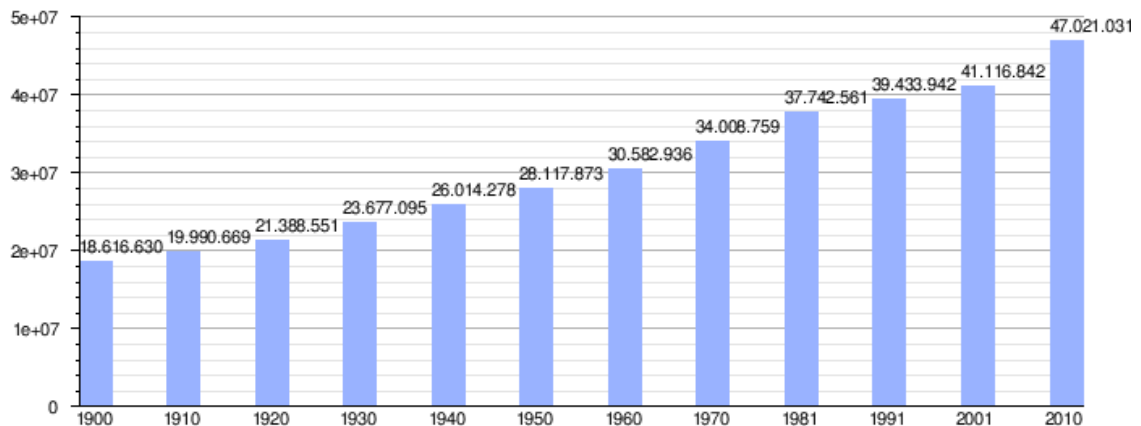
**TEMA 8. EVOLUCIÓN Y DISTRIBUCIÓN GEOGRÁFICA DE LA POBLACIÓN ESPAÑOLA**

1. Los efectivos demográficos y su evolución.
2. La densidad y la distribución espacial.
3. Los factores explicativos de la densidad y la distribución.

**1. LOS EFECTIVOS DEMOGRÁFICOS Y SU EVOLUCIÓN**

Diferenciamos dos etapas en la evolución de la población española, la preestadística y la estadística que difieren en el ritmo y la intensidad de crecimiento, así como en la cantidad y calidad de las fuentes de información.

- **La etapa preestadística**, anterior a la segunda mitad del s. XIX. El conocimiento de los efectivos es impreciso por falta de fuentes seguras. Desde la dominación romana al siglo XIV se alternan momentos de auge y de crisis demográfico, aunque nunca debió superar los siete millones de habitantes.
- **La etapa estadística** se inicia en 1857, con el primer censo moderno. Desde ese momento a 1900 la población crece en tres millones, lo que indica un crecimiento débil.



Los principios del siglo XX y más concretamente desde 1900 – 1975 se corresponde con un momento de transición. Siendo el paso del antiguo régimen, **caracterizado por una alta natalidad y mortalidad**, al actual con **muy baja natalidad y mortalidad**. Entre ambas una etapa de transición en la que se da una disminución suave de la natalidad y brusco descenso de la mortalidad y en consecuencia un elevado crecimiento natural, produciéndose un incremento de la población española, debido a los avances médicos, el desarrollo agrario que permitía una mejor alimentación, disminuyendo la mortalidad mientras la natalidad permanecía alta. No obstante, las epidemias no desaparecieron del todo y en 1917 tuvo lugar la de la gripe española que causó 200.000 muertes. Al tiempo que nos encontramos otras excepciones en el proceso de crecimiento con la guerra civil y la posterior política autárquica que daría como resultado miseria y falta de alimentos, provocando un aumento de la mortalidad.

El máximo auge de crecimiento se dará en los años 60 coincidiendo con una época de gran mejora económica en la que se dio un gran número de nacimientos, fenómeno que se le conoce como el baby boom.

A partir de 1975 asistimos a un cambio cuyas características responden al régimen demográfico moderno en la mortalidad tendrá tasa muy baja, y la natalidad y fecundidad experimentará un descenso vertiginoso alcanzando cuotas muy baja. Dando como consecuencia

un envejecimiento de la población española. Siendo las causas los cambios económicos – sociales operados desde estas fechas:

- La situación económica que siguió a la crisis de 1975, con grave aumento del paro que hizo reducir los nacimientos y retrasar la edad del matrimonio.
- El cambio de mentalidad en la sociedad española reflejada en la disminución de la influencia religiosa y difusión de los anticonceptivos, la incorporación de la mujer al trabajo.
- El aumento del nivel de vida y cultural que cambia la valoración de los hijos, que ya no son vistos como un seguro de vejez sino que se aprecia su formación y bienestar, por lo que se prefiere tener menos hijos y atenderlos mejor.

Hablar también de la evolución de la distribución de la población española durante el siglo XX, en cual existen grandes contrastes. Así hasta 1975 la tendencia de crecimiento fue sobre todo más fuerte en las regiones industriales (Cataluña, País Vasco, Madrid y Valencia) y las áreas turísticas, gracias a las migraciones hacia ellas desde las zonas interiores. A partir de 1975 se redujeron las diferencias a causa de la desindustrialización y el paro provocado por la crisis económica.

Las áreas industrializadas receptoras de inmigración perdieron su capacidad de atracción y crecieron por debajo de la media o ligeramente por encima, mientras que las zonas tradicionalmente emigratorias disminuyeron las salidas e incluso recibieron emigrantes retornados.

Actualmente la tendencia viene marcada por la primacía de los servicios, la difusión espacial de la industria, la agricultura tecnificada y el desarrollo endógeno, apuntando a la consolidación demográfica de Madrid, del eje mediterráneo que se prolonga hasta Andalucía Occidental, y el valle del Ebro. Por otra parte, la crisis industrial y minera ha provocado fuertes descensos en la cornisa cantábrica

## 2. LA DENSIDAD Y LA DISTRIBUCIÓN ESPACIAL

La distribución espacial de la población analiza la forma en que ésta se localiza sobre el espacio mediante la **densidad de población** (que relaciona la población de una zona con su superficie en kilómetros cuadrados). La población española presenta estas características:

- Aumento generalizado de la densidad de población
- Contraste litoral, fuertemente poblado, interior, semivacío.
- Concentración en áreas urbanas frente al despoblamiento de las zonas rurales.

La población de España disminuyó en 113.902 personas en 2012, situándose a 1 de enero de 2013, en 46.704.314 habitantes. Se trata del primer censo de población en España desde que se dispone de datos anuales (1971), según el Instituto Nacional de Estadística (INE).

La densidad de población en 2013 es de 93 hab/km<sup>2</sup>, una de las más bajas de Europa, según el INE. Una densidad inferior a la media europea, que pasa de los 110 hab/km<sup>2</sup>. Existen fuertes desequilibrios espaciales entre áreas de concentración y áreas de despoblamiento.

La densidad de población ha evolucionado a valores más altos. En la etapa preestadística la densidad pasó de 13,5 hab/Km<sup>2</sup> estimados para el siglo XVI a los 21 hab/km<sup>2</sup> de finales del siglo XVIII. La Corona de Castilla tenía mayor peso pues acogía las tres cuartas partes de la población española. Durante el siglo XIX se configura el mapa de densidad actual, una periferia expansiva y

un centro deprimido. Despegan Cataluña, Valencia, Andalucía y Murcia. En el centro las zonas de más densidad son Madrid, Guipúzcoa y Vizcaya. Actualmente existen fuertes contrastes entre las Comunidades Autónomas

- Las comunidades con mayor porcentaje de población: Andalucía, Cataluña, Madrid y Valencia, concentran el 56,2 % del total. Las de menos son La Rioja, Navarra, Cantabria, Baleares, Ceuta y Melilla.
- Por densidad los resultados cambian. Los valores más altos están en Madrid, País Vasco y Canarias, con cifras superiores a los 200 hab/Km<sup>2</sup>. En menor escalafón están Asturias, Baleares, Cantabria, Cataluña y Valencia. Andalucía, Galicia y Murcia están por encima de la media pero sin llegar a 100 hab/Km<sup>2</sup>.
- Las áreas de baja densidad se sitúan en el interior peninsular, siendo las cifras más bajas las de algunas zonas montañosas (< de 10 hab/km<sup>2</sup>).

Por provincias la densidad se distribuye así:

- Provincias de mayor densidad, superior a 100 hab/Km<sup>2</sup>. se encuentran en el litoral, salvo Madrid y Sevilla. Pontevedra, A Coruña, Barcelona, Valencia, Alicante, Málaga, Baleares, Cádiz, Santa Cruz de Tenerife, Las Palmas.,
- Provincias que no superan los 50 hab/Km<sup>2</sup> son las de las regiones de Extremadura, Castilla-La Mancha, Castilla-León, Aragón, interior de Galicia.
- En resumen, existe un contraste entre litoral e interior aunque en ambas partes hay áreas que rompen con la norma general.

### 3. LOS FACTORES EXPLICATIVOS DE LA DENSIDAD Y LA DISTRIBUCIÓN

Los factores que explican la actual densidad y distribución de la población española son:

**1. Factores geográficos.** Especialmente el clima y la altitud. Un clima extremo no facilita la habitabilidad ni el desarrollo de actividades económicas. La altitud también es un desafío para la ocupación humana. Estos factores no determinan, pero si condicionan muchos fenómenos (agricultura, comunicaciones,...)

**2. Factores demográficos.** Son la dinámica natural y la estructura de las diferentes poblaciones. Este factor consolida el contraste interior-litoral. El interior tiene menor crecimiento natural y una estructura de población envejecida, frente a un litoral de población más joven.

**3. Factores socioeconómicos.** Hechos o situaciones que atraen a la población hacia determinadas áreas geográficas o las repelen de otras. Esto ha dado lugar a la emigración. Las migraciones interiores se han originado por la concentración de actividades económicas productivas en ciertas áreas.

En lo que a población rural y urbana se refiere diremos que últimamente han perdido importancia los municipios de menos de 10 000 habitantes frente a la significación adquirida por ciudades grandes y medias.

Los municipios menores de 10 000 habitantes ocupan la cuarta parte de la población, con una densidad de 23,6 hab/Km<sup>2</sup>. Las ciudades con más de 100000 habitantes agrupan el 42% de la población en una extensión inferior al 3% del territorio.

**VOCABULARIO**

- **Asilo:** Protección que ofrece un Estado a personas que huyen de otro por razones políticas y que no puede ser devuelto a su país de origen.
- **Censo:** Recuento de ámbito estatal del número de habitantes, nacimientos y defunciones y otros datos que permiten conocer la situación demográfica, cultural, social y económica de la población. Se hace cada diez años.
- **Crecimiento Vegetativo:** Diferencia entre la natalidad y la mortalidad. Puede ser positivo o negativo.
- **Corriente migratoria:** son movimientos de población en el espacio. Distinguiéndose dos tipos: inmigración y emigración
- **Densidad de Población:** Es la relación entre la población que ocupa un espacio y la superficie de este.
- **Economía Sumergida:** Es la actividad económica que se mantiene al margen de las normas legales que regulan la producción y el trabajo, por lo que el trabajador no tiene reconocidas sus prestaciones sociales.
- **Envejecimiento de la Población:** Se considera que una población está envejecida cuando el porcentaje de ancianos es superior al 12% de la población total. Sus causas son: el descenso de la mortalidad (los avances sanitarios han aumentado la esperanza de vida) y el descenso de la natalidad (anticonceptivos, incorporación de la mujer al trabajo, cambios socioculturales...).
- **Esperanza de vida:** Es la duración media de la vida para una población y una época dadas.
- **Éxodo Rural:** emigración de las zonas de población rural a las ciudades
- **Fecundidad:** Es el número de hijos nacidos vivos de una mujer. Suele calcularse a través de la tasa de fecundidad.
- **Hábitat Concentrado:** tipo de distribución de los asentamientos humanos en el que las viviendas se disponen unas junto a otras.
- **Hábitat Disperso:** cuando las viviendas se disponen separadas una de otras rodeadas normalmente de campo de cultivos, bosque o prados.
- **Movimiento Pendular:** Es un desplazamiento de población con carácter repetitivo y moderada duración. El más frecuente se realiza entre el lugar de residencia y el trabajo.
- **Muestra:** Número limitado de habitantes de una población a la que se le pasa una encuesta con el fin de obtener una respuesta sobre un tema concreto.
- **Natalidad:** Es el número de nacimientos que tienen lugar en una población en un año.
- **Padrón:** Censo municipal que contiene la relación de los habitantes de los términos municipales con algunas de sus características. Se hace cada cinco años, pero los avances en telecomunicaciones van a permitir una actualización en menos tiempo.
- **Pirámide de poblaciones** una representación gráfica basada en un doble histograma de frecuencia, en el que se representa la estructura por sexo y edad de una población y nos permite conocer el comportamiento de la población.
- **Población Activa:** Conjunto de personas de 16 años o más que suministran mano de obra para la producción de bienes y servicios o que están disponibles y hacen gestiones para incorporarse a dicha producción.
- **Población Ocupada:** Es la parte de la población activa que tiene trabajo.
- **Refugio:** Derecho internacional por el cual se ofrece refugio a una persona por fundados temores de ser perseguida por motivos de raza, religión, nacionalidad, pertenencia a un determinado grupo social u opiniones políticas.
- **Régimen Demográfico:** Es una situación demográfica a lo largo de la cual la natalidad, la mortalidad y el crecimiento natural de una población presentan unas tendencias homogéneas.
- **Saldo Migratorio:** Es el balance entre la inmigración y la emigración.

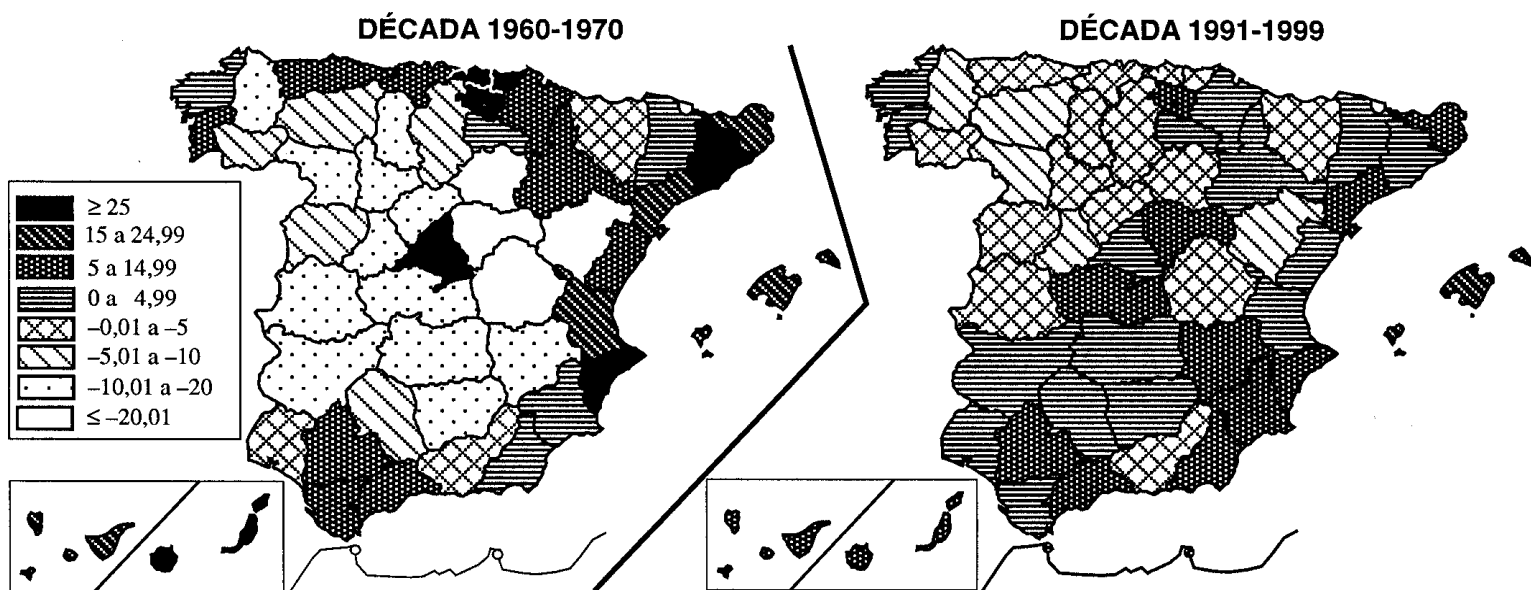
- **Tasa de Natalidad:** Es la relación entre el número de nacimientos que se producen en un año en un lugar y la población total del mismo, expresada en tantos por mil.
- **Tasa de Nupcialidad:** El número de matrimonios por cada 1000 habitantes.
- **Tasa de Paro:** Es el porcentaje de población activa desocupada respecto al total de la población activa.
- **Transición Demográfica:** Es el periodo de la historia demográfica caracterizado por un descenso suave de la tasa de natalidad y un rápido descenso de la tasa de mortalidad, que ocasiona un elevado crecimiento natural de la población.
- **Tasa bruta de mortalidad:** es la relación entre el número de defunciones producidas en un año y lugar, y la población de éste, expresadas en tantos por mil. Se calcula: Defunciones \* 1000/ población total.
- **Tasa de mortalidad infantil:** es la relación entre el número de niños fallecidos antes de cumplir un año de un lugar, y el total de nacidos, expresadas en tantos por mil.
- **Estereoscopio:** Instrumento óptico usado en fotointerpretación, formado por dos lentes que, al observar dos fotografías aéreas del mismo lugar tomadas desde puntos distintos, permite visualizarlas en tres dimensiones.
- **Factoría:** Puesto comercial fundado en el litoral de un territorio para proceder al comercio o al intercambio de mercancías con los pueblos autóctonos de la zona. Generalmente se sitúan en un lugar de la costa con un buen puerto y de fácil defensa, como una isla cercana al litoral, una península, un tómbolo...
- **Franja o Área Urbana:** Zona indeterminada, de transición, situada entre la ciudad y el campo, que presenta características de uno y de otra. En ella se mezclan los usos, las funciones y las actividades agrícolas con las urbanas.
- **Hábitat:** Localización de las construcciones y estructuras humanas en el espacio, en relación con los diferentes elementos del paisaje, tanto físicos como humanos. En ecología se usa para referirse al medio ambiente propio de un individuo, especie, comunidad o ecosistema.
- **Hinterland:** Traspais. Territorio que se encuentra dentro de la esfera de influencia permanente de una ciudad. En las ciudades preindustriales, indica el área de la que la ciudad obtiene la mayoría de sus alimentos y materias primas.
- **Morfología:** Estudio de la forma, la configuración y el plano de un asentamiento humano, ya sea rural o urbano.
- **Ortogonal:** Referido al tratado de un asentamiento, indica que las calles se cortan perpendicularmente, es decir, en ángulo recto, formando islas cuadrangulares de casas.
- **Plan Badajoz:** Plan aprobado en 1952 que pretendía transformar una amplia zona de Extremadura mediante la construcción de grandes embalses que permitieran colonizar tierras yermas, creando regadíos, fundando pueblos y construyendo infraestructuras de comunicación.
- **Ruurbanización:** Proceso que indica la penetración de usos, funciones y actividades urbanas en un área rural, que se convierte en ruurbana, es decir, en una zona de transición entre el campo y la ciudad.
- **Trazado:** En un asentamiento humano, se refiere a la orientación y forma en que se disponen sus calles y vías de comunicación.
- **Troglodítico:** Relativo a una cueva. El término hábitat troglodítico se refiere al uso de cuevas como viviendas, tanto si son de origen natural como excavadas para ser ocupadas.

**PRÁCTICAS****Práctica 1**

**Analice los mapas que siguen y responda a las siguientes cuestiones**

- En la década de 1960-70 ¿qué provincias tienen un incremento demográfico superior al 25 ‰ anual y cuáles entre el 15 y 24,99 ‰? Enumérelas diferenciando cada grupo.
- Explique las causas principales por las que se producen los resultados que muestra el mapa de 1960-70.
- Compare los dos mapas y explique las causas principales por las que el comportamiento demográfico es tan diferente en ambos períodos.

**TASAS DE CRECIMIENTO INTERCENSAL DE LA POBLACIÓN PROVINCIAL.  
VALORES ANUALES (x1.000) EN CADA DÉCADA REPRESENTADA.**

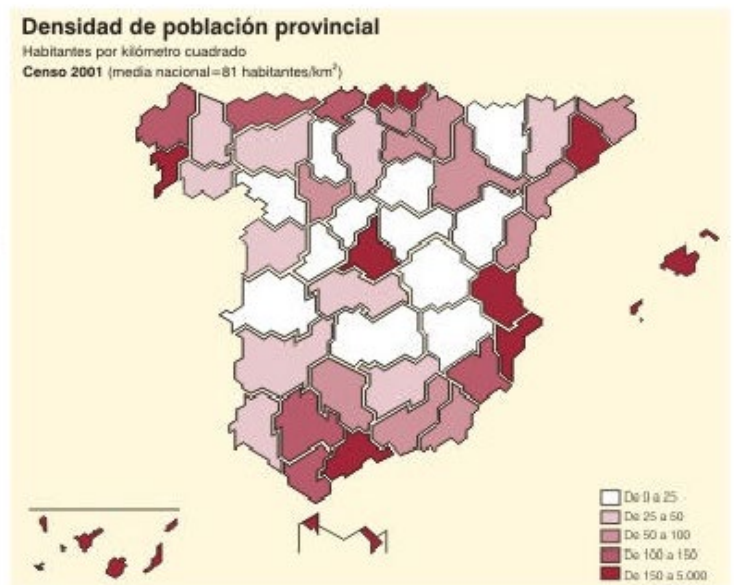


Fuente: INE  
Elaboración: Jesús Monteagudo

## Práctica 2

En la figura siguiente se representan los mapas de densidades provinciales de población correspondientes a 1900 y 2001. Analícelos y responda a las siguientes preguntas:

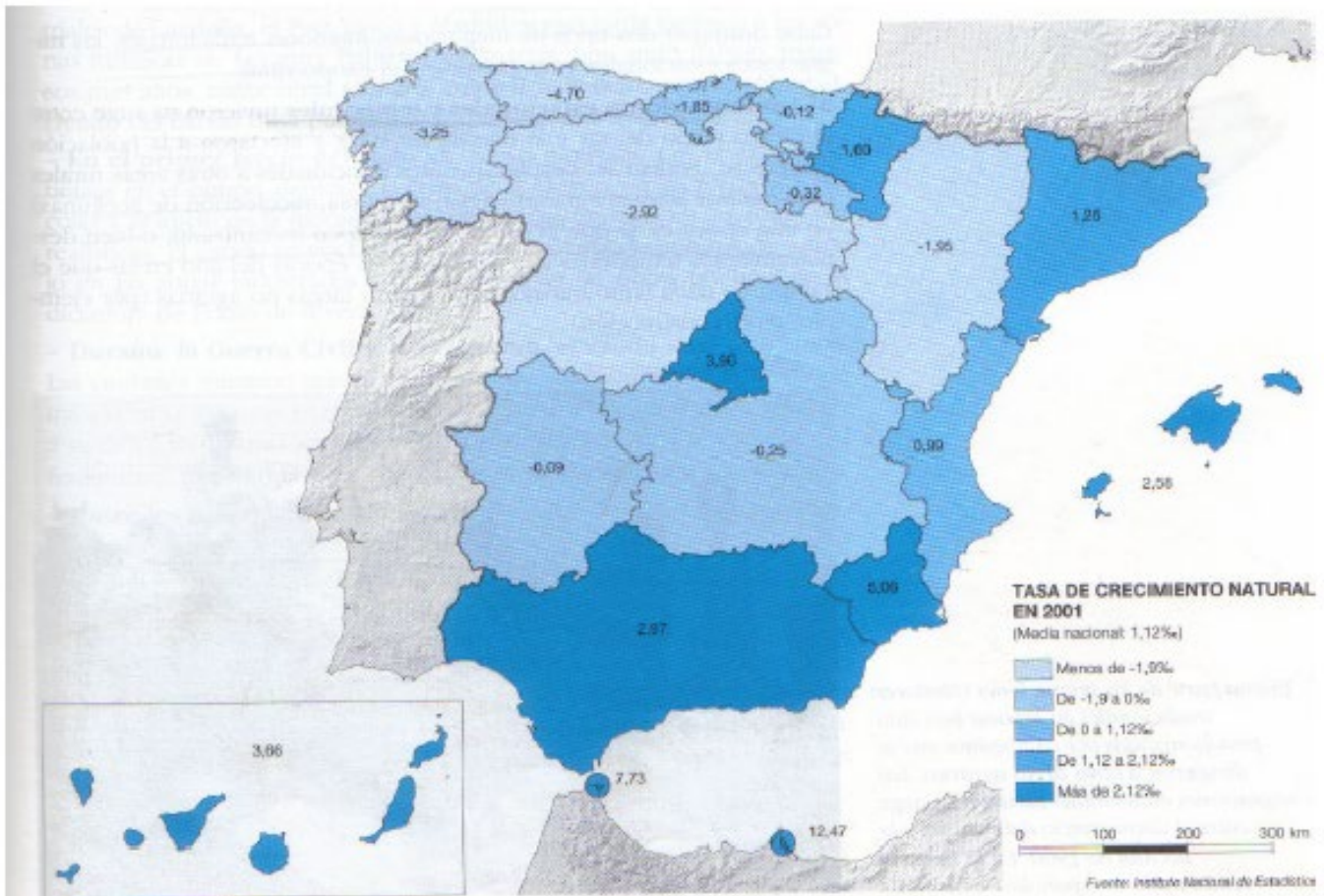
- Identifique las provincias que, teniendo en 1900 una densidad de población menor de 25 habitantes/km<sup>2</sup>, han aumentado su densidad hasta tener valores superiores a 25 Habitantes/km<sup>2</sup> en el año 2001.
- Identifique las provincias que presentan los valores de más de 150 habitantes/km<sup>2</sup> en el año 2001.
- Explique las causas que han contribuido al reparto de la población observado en 2001.



## Práctica 3

En el siguiente mapa se representa la tasa de crecimiento natural de la población en España. Con la información de dicho mapa responda a las siguientes cuestiones:

- Nombre de las Comunidades Autónomas con una tasa de crecimiento natural superior al 2,12 ‰.
- Nombre de las Comunidades Autónomas con una tasa de crecimiento natural inferior al 1,9 ‰. Explique las causas que la motivan.
- Diferencias que dan lugar a los desequilibrios territoriales en el movimiento natural de la población



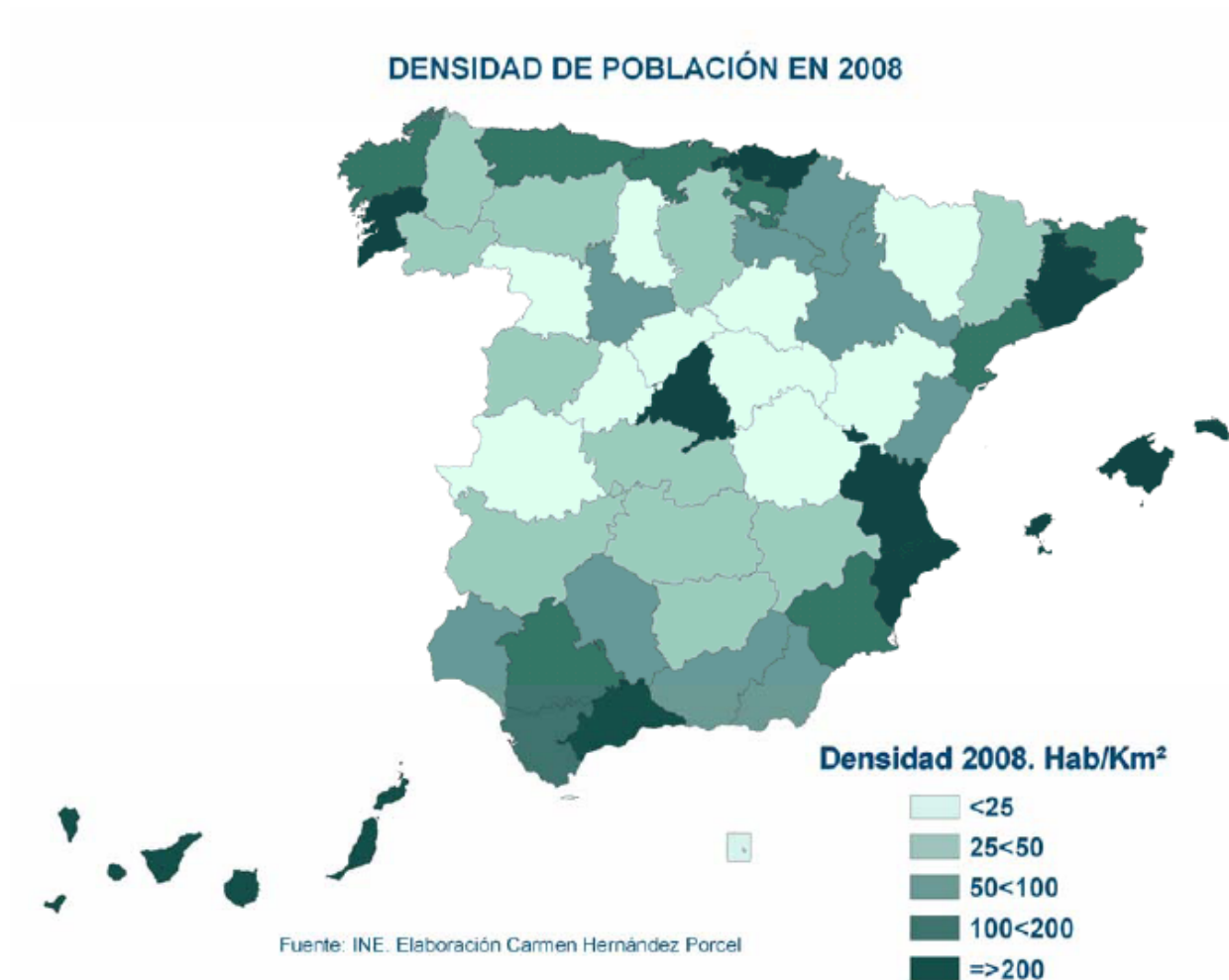


**Práctica 4 (resuelta)**

**2. El mapa siguiente representa la densidad de población en España por provincias. Analicelo y responde a las siguientes cuestiones:**

- ¿Qué provincias son las que tienen una densidad mayor de 200 habitantes/km<sup>2</sup>? (Hasta 1 punto).
- ¿Qué diferencia hay entre las densidades de las provincias del interior y las de la periferia? (Hasta 1 punto).
- Explique las causas de esta disimetría y las excepciones. (Hasta 2 puntos).

(Valoración: hasta 4 puntos)



**a) ¿Qué provincias son las que tienen una densidad mayor de 200 habitantes/km<sup>2</sup>?**

Madrid, Málaga, Alicante, Valencia, Baleares, Barcelona, Guipúzcoa, Vizcaya, Pontevedra, Las Palmas y Santa Cruz de Tenerife.

**b) ¿Qué diferencia hay entre las densidades de las provincias de interior y las de la periferia?**

Con la excepción de Madrid, Valladolid y las provincias del eje del Valle de Ebro, todas las provincias con población superior a los 50 habitantes se concentran en la periferia.

**c) Explique las causas de esta disimetría y las excepciones.**

Todo el litoral está muy poblado, aunque hay excepciones. Las causas son:

- Un relieve poco accidentado.
- La suavidad de las condiciones climáticas.
- El desarrollo de la agricultura rentable y competitiva.

- El auge del turismo y la construcción.
- La existencia de un sistema denso de comunicaciones.

La existencia de este desequilibrio se remonta al siglo XVIII y ha sido potenciado en los siglos XIX y XX por la tardía y desigual industrialización de España y la implantación de un modelo de turismo de sol y de playa a partir de 1960. Las excepciones a esta disimetría son las siguientes:

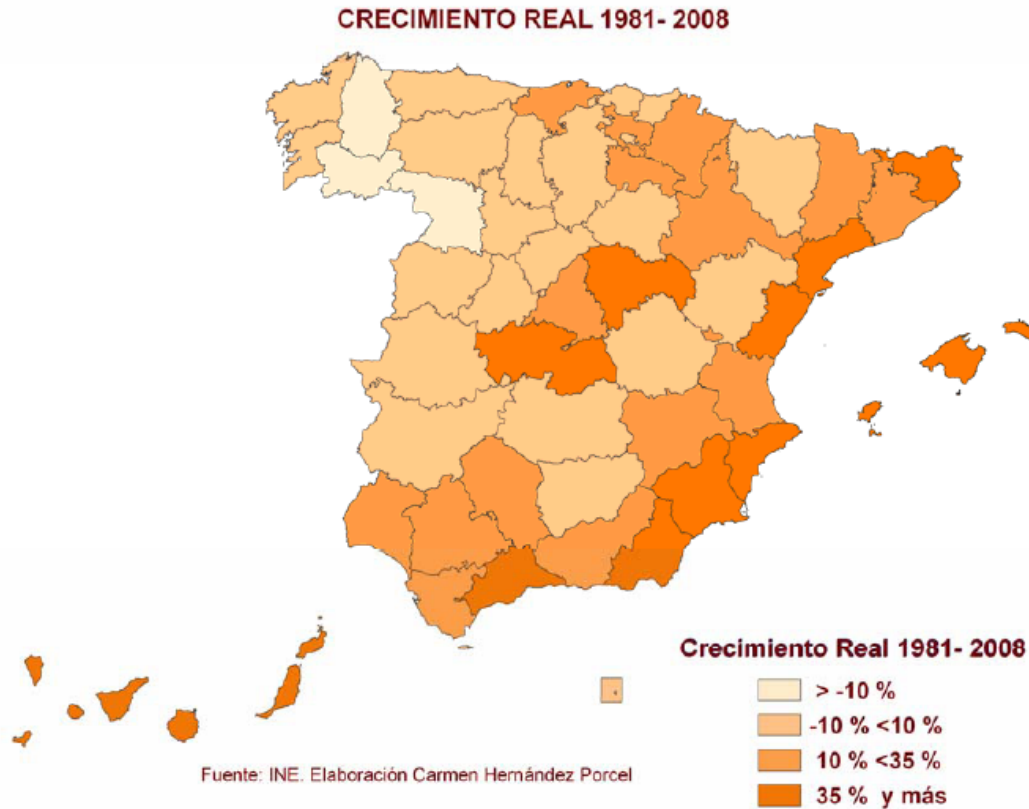
- Provincias de la periferia con escasa densidad de población: Lugo, Huelva, Almería, Granada, y Castellón. En su mayor parte se trata de provincias con escaso desarrollo costero, débilmente pobladas y muy afectadas por la emigración interior y exterior.
- Provincias del interior con alta densidad de población: Madrid y Valladolid, centros urbanos muy poblados y con gran desarrollo industrial y del sector servicios y Navarra, La Rioja y Zaragoza, son provincias que forman parte del Eje del Valle del Ebro, un área con gran desarrollo económico en los últimos años.

**Práctica 6 (resuelta)**

2. En el mapa siguiente se representa el crecimiento real de la población en España entre 1981 y 2008, por provincias. Analicelo y responda a las siguientes preguntas:

- ¿Qué provincias crecen más del 35%? (Hasta 1 punto).
- ¿Qué provincias pierden más del 10% de su población? (Hasta 1,5 puntos).
- Explique las posibles causas del crecimiento en las provincias en las que este es mayor del 10%. (Hasta 1,5 puntos).

(Valoración: hasta 4 puntos)



**a) ¿Qué provincias crecen más del 35%?**

Málaga, Almería, Murcia, Alicante, Baleares, Castellón, Tarragona, Gerona, Guadalajara, Toledo, Las Palmas y Santa Cruz de Tenerife.

**b) ¿Qué provincias pierden más del 10% de su población?**

Lugo, Orense, Zamora.

**c) Explique las posibles causas del crecimiento en las provincias en las que éste es mayor del 10%.**

- Provincias situadas en las islas y la periferia peninsular. En ellas la agricultura está más desarrollada y el turismo y la construcción presentan un mayor dinamismo. Es el caso de Almería y Murcia entre otras.

- Provincias cercanas a los grandes centros urbanos. El precio del suelo de estas provincias resulta más barato y atrae a las empresas y a los residentes de las grandes urbes que prefieren una vivienda más asequible. El desarrollo de las comunicaciones permite desplazarse diariamente a la capital. Es el caso de Toledo o Guadalajara.

- Provincias situadas en el eje del Valle del Ebro. Se trata de un eje con gran desarrollo económico en los últimos años y que presenta un equilibrio entre la industria y los servicios. El crecimiento de Navarra o La Rioja se explica por esta razón.